








## Sumas que dan 6

1. Seis hipopótamos se agrupan de maneras diferentes. Escribe las sumas.

 _____ + _____ = _____	 _____ + _____ = _____
 _____ + _____ = _____	 _____ + _____ = _____
 _____ + _____ = _____	 _____ + _____ = _____
 _____ + _____ = _____	

2. Juega “Fuera el 6” y/o “¡Algunos se escondieron!” con 6 objetos (los juegos están explicados al comienzo del libro).

3. **Ejercita.** No escribas las respuestas, sólo piénsalas en tu mente.

$1 + \square = 6$

$4 + \square = 6$

$\square + 2 = 6$

$\square + 3 = 6$

$2 + \square = 6$

$3 + \square = 6$

$\square + 0 = 6$

$\square + 1 = 6$

$6 + \square = 6$

$5 + \square = 6$

$\square + 4 = 6$

$\square + 5 = 6$

4. Suma los números y escribe el total sobre la línea.

a.  $1 + 5 = \underline{\hspace{2cm}}$

b.  $2 + 3 = \underline{\hspace{2cm}}$

c.  $4 + 2 = \underline{\hspace{2cm}}$