

# Horas completas y media horas

En esta lección, el reloj sólo tiene una manecilla - la manecilla de la hora.



La manecilla de la hora señala cuatro - son las cuatro, ó "cuatro horas".



La manecilla de la hora señala once - son las once, ó "once horas".

La manecilla de la hora mueve lentamente por la esfera del reloj: de 1 a 2 a 3, etc.

Cuando la manecilla de la hora mueve de 1 a 2, pasa exactamente *una hora de tiempo*.

Ocurre lo mismo cuando la manecilla de la hora mueve de 2 a 3: requiere una hora para hacer eso.



En este reloj, la manecilla de la hora primero señaló el 5 - eran las cinco.

Después está a medio camino entre el 5 y el 6. Decimos que son las **cinco y media**.





La manecilla de la hora toma una media hora moviendo del cinco hasta el punto medio entre el cinco y el seis.

La manecilla de la hora ha pasado las ocho, y ahora está a medio camino entre el 8 y el 9. Decimos que son las ocho y media.

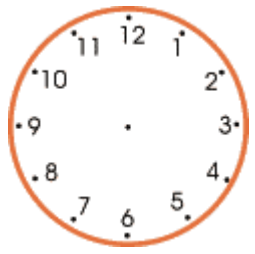
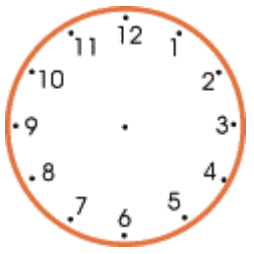
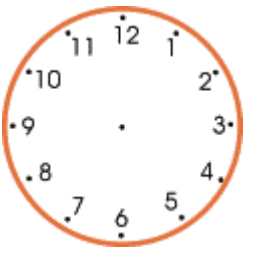
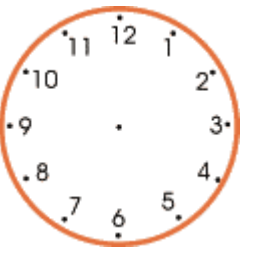
En otra media hora, serán las nueve.







1. Escribe la hora debajo de cada esfera de reloj.

			
Son las _____	Son las _____	Son las _____	Son las _____

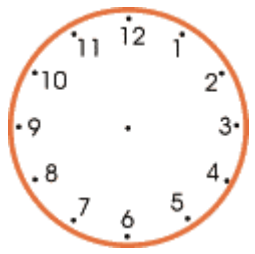
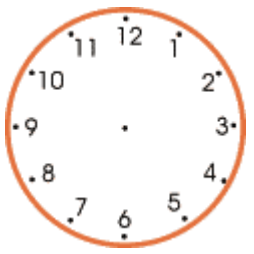
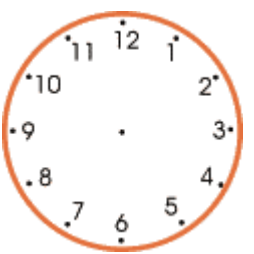
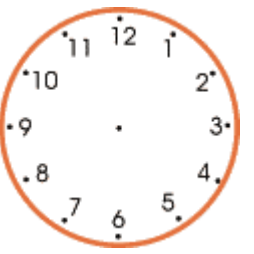
2. Dibuja la manecilla de la hora.

			
a. Son las cinco	b. Son las ocho	c. Son las doce	d. Son las siete

3. Escribe la hora.

			
a. _____ y media	b. _____ y media	c. _____ y media	d. _____ y media

4. Dibuja la manecilla de la hora.

			
a. Son las seis y media	b. Son las tres y media	c. Son las dos y media	d. Son las cuatro y media