





# ¿Cuánto tiempo pasa?

1. ¿Cuántos minutos faltan para las 2:30? ¿Y para las 8:05?

a.	b.
Son las 2:00. → Faltan ___ min.	Son las 7:30. → Faltan ___ min.
Son las 2:10. → Faltan ___ min.	Son las 7:35. → Faltan ___ min.
Son las 2:20. → Faltan ___ min.	Son las 7:45. → Faltan ___ min.
Son las 2:25. → Faltan ___ min. <b>para las 2:30</b>	Son las 7:50. → Faltan ___ min. <b>para las 8:05</b>

2. La clase termina a la 1:00. ¿Cuántos minutos de la clase faltan a estas horas?

 a.	 b.	 c.	 d.
--	--	---	--

3. ¿Cuántos minutos pasan? Imagínate que estás girando la manecilla de un reloj.

desde	1:45	1:55	1:40	1:45	1:55
hasta	1:55	2:05	2:05	2:15	2:10
pasan	<u>10 minutos</u>				

desde	2:00	7:05	8:45	6:40	11:15
hasta	2:35	7:15	9:05	7:10	11:30
pasan					

4. a) El viaje comenzó a las 4 y 10, y terminó a las 4 y media. ¿Cuántos minutos duró?

b) Jesús comenzó a hacer la tarea de matemáticas a las cinco menos veinte, y terminó a las cinco y cinco. ¿Cuánto tiempo pasó con la tarea?

c) La clase de música comienza a las 10:15, y termina a las 10:45. ¿Cuánto tiempo dura?