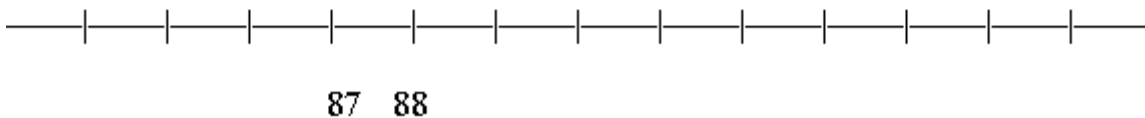
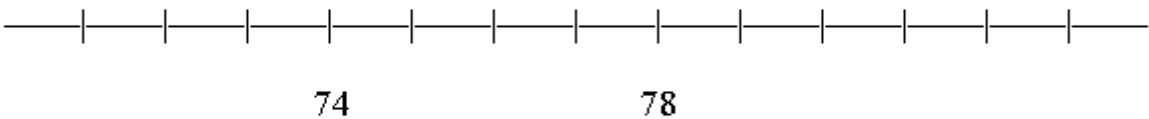
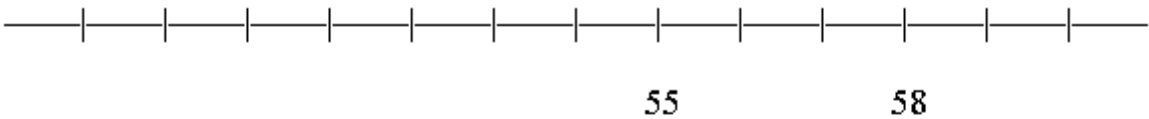
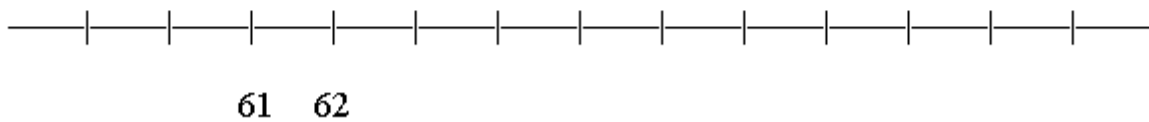
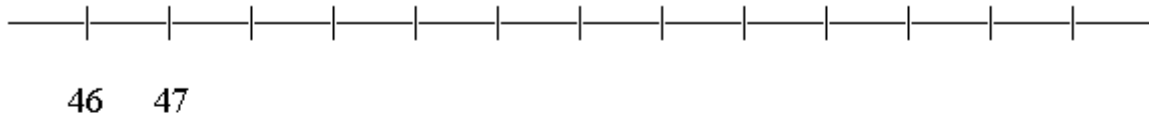


Práctica

1. Utiliza este espacio, ó una hoja aparte, para realizar una línea de números del 50 al 100.
2. Completa los números que faltan en las siguientes líneas.



3. ¿Qué números faltan en las líneas vacías?

a. 88, 89, ____, ____

e. ____, 16, ____, 18

i. ____, 34, 35, ____

b. ____, 62, 63, ____

f. ____, ____, 66, 67

j. 41, ____, ____, 44

c. ____, ____, 71, 72

g. ____, ____, 54, 55

k. ____, ____, 30, 31

d. 69, ____, 71, ____

h. ____, 80, ____, 82

l. ____, 78, ____, 80