







Contar en grupos de 10

Cuenta en grupos de DIEZ. Cuenta diez puntos, y agrúpalos en un círculo. ¿Cuántos grupos de diez tienes? ¿Cuántas unidades te sobran?

 <p>grupos de decenas unidades</p> <input type="text"/> <input type="text"/>	 <p>grupos de decenas unidades</p> <input type="text"/> <input type="text"/>	 <p>grupos de decenas unidades</p> <input type="text"/> <input type="text"/>
 <p>grupos de decenas unidades</p> <input type="text"/> <input type="text"/>	 <p>grupos de decenas unidades</p> <input type="text"/> <input type="text"/>	 <p>grupos de decenas unidades</p> <input type="text"/> <input type="text"/>