




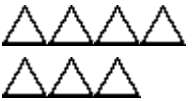
Práctica de sumar

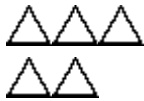
1. Dibuja más triángulos. Escribe una ecuación.

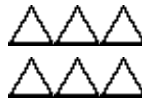
Dibuja 3 más

__ + __ = __

Dibuja 2 más

__ + __ = __

Dibuja 5 más

__ + __ = __

Dibuja 3 más

__ + __ = __

Dibuja 3 más

__ + __ = __

Dibuja 4 más

__ + __ = __

2. ¡Dobles! Dibuja puntos ó barras. Puedes utilizar varios colores.

Doble 2

Doble 3

Doble 4

Doble 5

Doble 6

Doble 1

3. Suma.

$4 + 4 = \underline{\quad}$	$4 + 3 = \underline{\quad}$	$2 + 4 = \underline{\quad}$	$7 + 1 = \underline{\quad}$	$2 + 3 = \underline{\quad}$
$6 + 1 = \underline{\quad}$	$5 + 2 = \underline{\quad}$	$5 + 1 = \underline{\quad}$	$2 + 6 = \underline{\quad}$	$0 + 2 = \underline{\quad}$
$6 + 2 = \underline{\quad}$	$3 + 2 = \underline{\quad}$	$1 + 6 = \underline{\quad}$	$4 + 4 = \underline{\quad}$	$3 + 3 = \underline{\quad}$