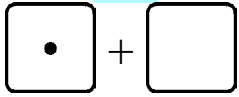
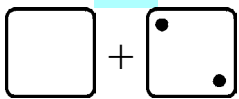
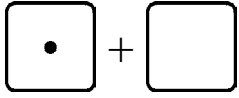
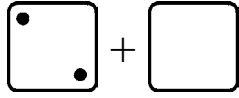
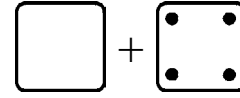
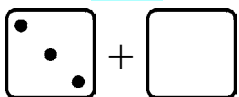
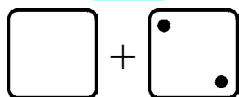

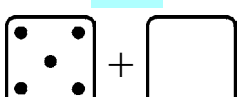
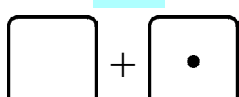



Números que faltan

<p>Falta algo en esta suma. El TOTAL no falta. Sabemos que el total es cinco.</p> <p>¿Cuántos puntos hay en el segundo dado? ¡Eso es lo que falta!</p> <p>Debe haber 5 puntos en total. Dibuja 4 en el segundo dado.</p>	<p style="text-align: center;">5</p>  <p style="text-align: center;">1 + _____</p>
<p>Debe haber 4 puntos en total. El segundo dado tiene dos. No hay ninguno en el primer dado, entonces necesitas dibujarlos.</p> <p>Lee: “¿2 más qué número son 4?” ó “¿2 y cuántos más son 4?” ó “¿Qué número sumado a 2 me da 4?”</p>	<p style="text-align: center;">4</p>  <p style="text-align: center;">_____ + 2</p>

1. Dibuja más puntos para la suma. Escribe el número que falta. El total está arriba.

<p style="text-align: center;">3</p>  <p>a. 1 + _____</p>	<p style="text-align: center;">3</p>  <p>b. 2 + _____</p>	<p style="text-align: center;">5</p>  <p>c. _____ + 4</p>
<p style="text-align: center;">5</p>  <p>d. 3 + _____</p>	<p style="text-align: center;">5</p>  <p>e. _____ + 2</p>	<p style="text-align: center;">4</p>  <p>f. _____ + 3</p>
<p style="text-align: center;">5</p>  <p>g. 5 + _____</p>	<p style="text-align: center;">4</p>  <p>h. _____ + 1</p>	<p style="text-align: center;">4</p>  <p>i. _____ + 2</p>