
















## Dos grupos y un total

1. Forma dos grupos.

<p>a. 4</p>  <p>1 y 3</p>	<p>b. 4</p>  <p>2 y 2</p>	<p>c. 4</p>  <p>3 y 1</p>
<p>d. 5</p>  <p>3 y 2</p>	<p>e. 5</p>  <p>2 y 3</p>	<p>f. 5</p>  <p>1 y 4</p>

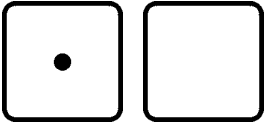
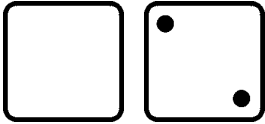
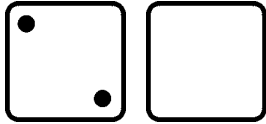
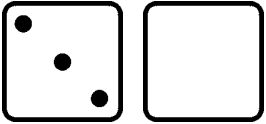
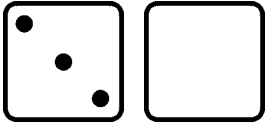
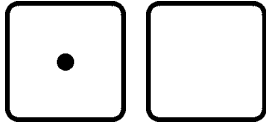
2. Forma dos grupos. Escribe cuántos hay en el segundo grupo.


<p>a. 4</p>  <p>1 y _____</p>	<p>b. 4</p>  <p>2 y _____</p>	<p>c. 4</p>  <p>3 y _____</p>
<p>d. 5</p>  <p>4 y _____</p>	<p>e. 5</p>  <p>3 y _____</p>	<p>f. 5</p>  <p>2 y _____</p>
<p>g. 5</p>  <p>1 y _____</p>	<p>h. 5</p>  <p>5 y _____</p>	<p>i. 5</p>  <p>0 y _____</p>


3. Dibuja tantos círculos como indica el número. Luego sepáralos en dos grupos cómo más te guste. Escribe cuántos hay en cada grupo.

<p>a. 3</p> <p>_____ y _____</p>	<p>b. 5</p> <p>_____ y _____</p>	<p>c. 4</p> <p>_____ y _____</p>
<p>d. 2</p> <p>_____ y _____</p>	<p>e. 6</p> <p>_____ y _____</p>	<p>f. 8</p> <p>_____ y _____</p>










4. El número de arriba es el total. Dibuja los puntitos que faltan en el dado vacío para llegar a ese número. Luego escribe en las líneas cuántos puntitos hay en cada dado.

<p>a. 3</p>  <p>_____ y _____</p>	<p>b. 6</p>  <p>_____ y _____</p>	<p>c. 5</p>  <p>_____ y _____</p>
<p>d. 4</p>  <p>_____ y _____</p>	<p>e. 6</p>  <p>_____ y _____</p>	<p>f. 5</p>  <p>_____ y _____</p>


  
 2 y 2 
  
 “Dos y dos son cuatro.”


  
 1 y 4 
  
 “Uno y cuatro son cinco.”

5. Escribe cuántos hay en cada grupo. Luego escribe el total en el recuadro.

<p>a.            _____ y _____ <input data-bbox="431 674 553 772" type="text"/></p>	<p>b.            _____ y _____ <input data-bbox="881 674 1003 772" type="text"/></p>	<p>c.            _____ y _____ <input data-bbox="1333 674 1455 772" type="text"/></p>
<p>d.            _____ y _____ <input data-bbox="431 903 553 1001" type="text"/></p>	<p>e.            _____ y _____ <input data-bbox="881 903 1003 1001" type="text"/></p>	<p>f.            _____ y _____ <input data-bbox="1333 903 1455 1001" type="text"/></p>
<p>g.            _____ y _____ <input data-bbox="431 1178 553 1276" type="text"/></p>	<p>h.            _____ y _____ <input data-bbox="881 1178 1003 1276" type="text"/></p>	<p>i.            _____ y _____ <input data-bbox="1333 1178 1455 1276" type="text"/></p>

6. Dibuja círculos para cada número. Escribe el total en el recuadro.

<p>a. 2 y 2 <input data-bbox="513 1556 639 1654" type="text"/></p>	<p>b. 3 y 1 <input data-bbox="1190 1556 1317 1654" type="text"/></p>
<p>c. 3 y 3 <input data-bbox="513 1829 639 1927" type="text"/></p>	<p>d. 1 y 4 <input data-bbox="1190 1829 1317 1927" type="text"/></p>