

Reagrupación, parte 1

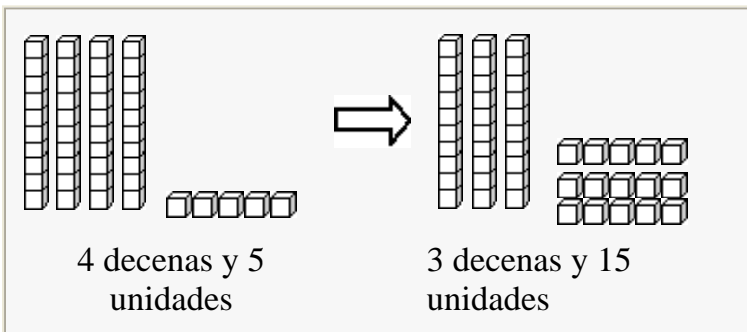
1. Descompone una decena en diez unidades antes de restar.

a. $45 - 7 = ?$

De la primera ilustración, no puedes tachar 7 unidades. Por eso, descompone una decena, y después tacha 7 unidades.

¿Qué te sobra?

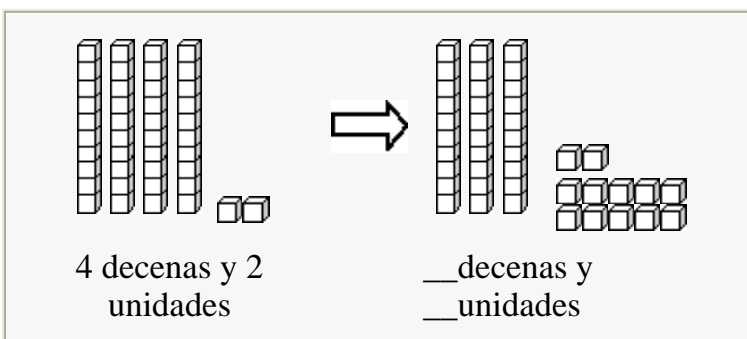
__ decenas y __ unidades = __



b. $42 - 18 = ?$

De la primera ilustración, no puedes tachar 1 decena y 8 unidades. Por eso, descompone una decena, y después tacha 1 decena y 8 unidades. ¿Qué te sobra?

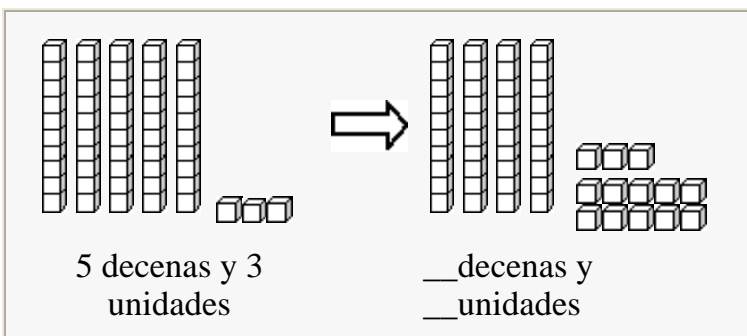
__ decenas y __ unidades = __



c. $53 - 27 = ?$

De la primera ilustración, no puedes tachar 2 decenas y 7 unidades. Por eso, descompone una decena, y después tacha 2 decenas y 7 unidades. ¿Qué te sobra?

__ decenas y __ unidades = __



d. $55 - 39 = ?$

De la primera ilustración, no puedes tachar 3 decenas y 9 unidades. Por eso descompone una decena, y después tacha 3 decenas y 9 unidades. ¿Qué te sobra?

__ decenas y __ unidades = __

