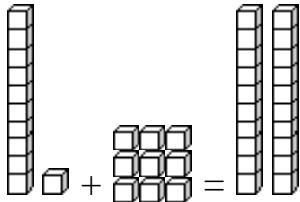
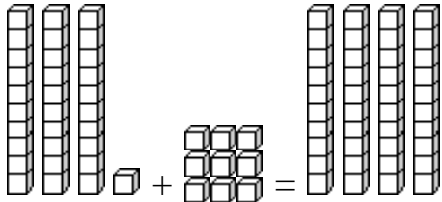
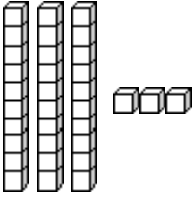
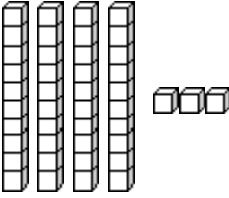
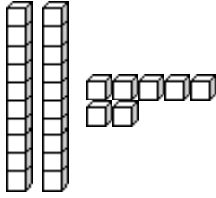
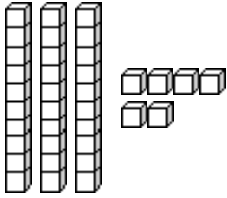
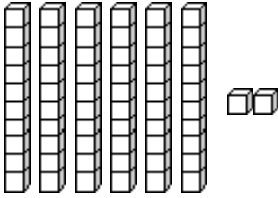
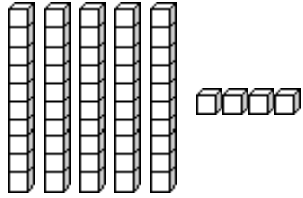


Completar la decena

Repaso: Sumas de diez	$0 + 10 = 10$ ó $10 + 0 = 10$	$3 + _ = 10$ ó $_ + _ = _$
	$1 + 9 = 10$ ó $9 + 1 = 10$	$4 + _ = 10$ ó $_ + _ = _$
	$2 + _ = 10$ ó $_ + _ = _$	$5 + _ = 10$

Completar la decena	
 $11 + 9 = 20$	 $31 + 9 = 40$
El 1 y el 9 completan una decena. Ya tenemos una decena, así que tenemos un total de 20.	El 1 y el 9 completan una decena. Ya tenemos tres decenas, así que tenemos un total de 40.

1. Dibuja bloques para completar la decena. Después encierre en un círculo la nueva decena que se forma. Haz una ecuación de suma.

 a. $33 + _ = _$	 b. $43 + _ = _$	 c. $27 + _ = _$
 d.	 e.	 f.