

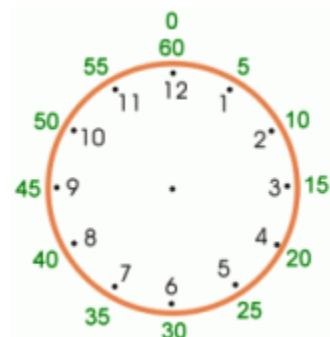
Los minutos

La manecilla de la hora toma una hora moviendo de un número al siguiente (de 1 a 2, ó de 6 a 7, etc.).

En esa misma tiempo de una hora, la manecilla de los minutos mueve de 0 a 60 minutos.

Entonces, una hora es 60 minutos. Hay 30 minutos en una media hora.

Cuando lees la manecilla de los minutos, utilizas los números verdes (afuera de la esfera del reloj). Normalmente no se los señalan en los relojes. Hay que saberlos.



1 hora = 60 minutos.
1/2 hora = 30 minutos.



La manecilla de la hora ha pasado 8. La manecilla de los minutos está en el 15.
La hora es 8:15.

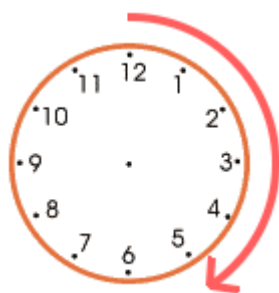


La manecilla de la hora ha pasado 3. La manecilla de los minutos está en el 25.
La hora es 3:25.



La manecilla de la hora ha pasado 9. Todavía no ha pasado 10, aunque está cerca. La manecilla de los minutos está en el 55.
La hora es 9:55.

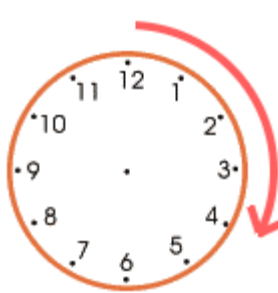
1. La flecha muestra cuánto mueve la manecilla de los minutos. ¿Cuántos minutos pasan?



a. ___ minutos



b. ___ minutos



c. ___ minutos



d. ___ minutos