

Problemas de la balanza

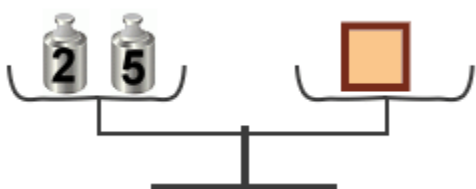
Esta es una balanza. Se colocan cosas en los dos lados, y el lado más pesado bajará, como un subibaja.

Si las dos cosas tienen el mismo peso,

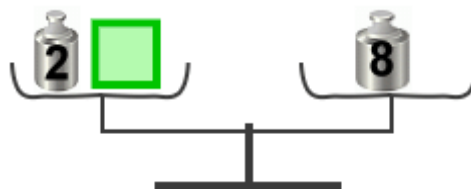
la balanza queda en equilibrio.



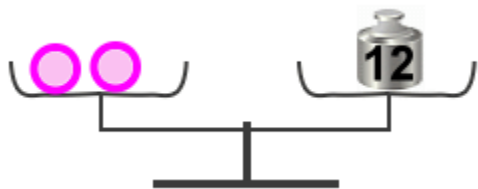
1. Resuelve cuánto "pesa" cada figura geométrica. Puedes utilizar o libras o kilogramos.



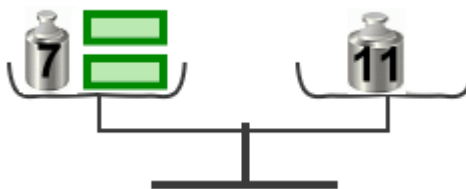
a. El cuadrado pesa ____



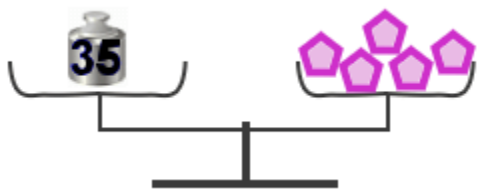
b. El cuadrado pesa ____



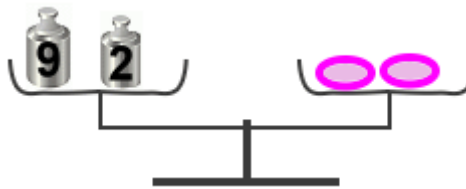
c. Un balón pesa ____



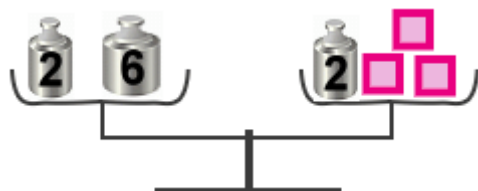
d. Un rectángulo pesa ____




e. Un pentágono pesa ____



f. Un óvalo pesa ____



g. Un cuadrado pesa ____



h. Un cuadrado pesa ____