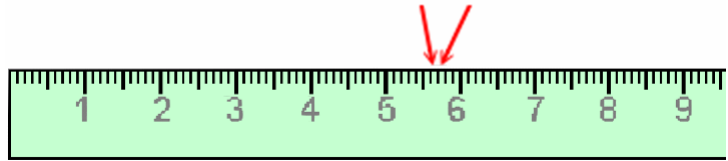


Centímetros y milímetros

Esta regla mide en centímetros.
Los números significan centímetros enteros.
Todas las marcas pequeñas entre esas son milímetros.

La distancia entre estas dos es 1 mm.

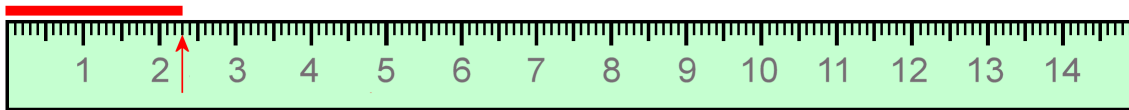


La distancia entre una marca pequeña y la siguiente es 1 milímetro. Lo escribimos 1 mm. ¡Milímetros son muy pequeños!

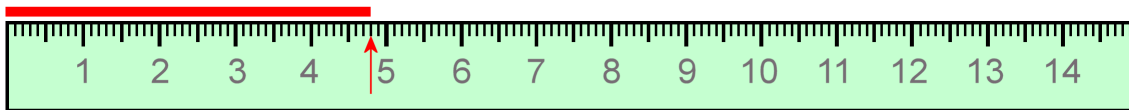
Mira la regla: hay 10 milímetros en cada centímetro.

Medir rectas

Primero, ve cuántos centímetros enteros mide la recta. Después cuenta cuántas marcas de milímetros adicionales alcanza.



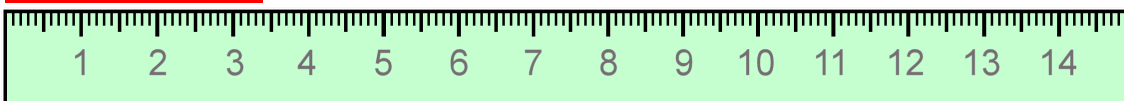
Esta recta mide 2 cm 3 mm.



Esta recta mide 4 cm 8 mm.

1. Mide las rectas utilizando la regla.

a. _____ cm _____ mm



b. _____ cm _____ mm

