

# Dividir en dos partes — mitades

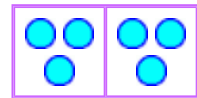
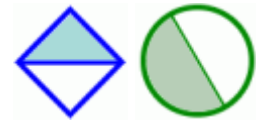
Si divides algo en dos partes del mismo tamaño, o *dos partes iguales*, entonces cualquier parte es una MITAD del total.

Se escribe una mitad así:  $\frac{1}{2}$

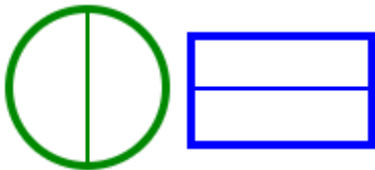
También puedes escribir una mitad así:  $1/2$

También puedes hallar la mitad de tal cantidad de cosas. Por ejemplo, puedes hallar la mitad de diez manzanas. Son cinco manzanas.

También puedes hallar la mitad de un número. Por ejemplo, la mitad de 6 es 3.



1. a. Colorea la mitad de cada figura.



b. Colorea dos mitades de cada figura.



2. Dibuja una línea adentro de estas figuras y divídelas en dos mitades. Colorea una mitad.



3. Divide las cosas en dos grupos IGUALES. Escribe una suma. Halla la mitad del total.  
La caja con "D" significa una decena.

<p>10 pelotas</p>	<p>40</p>	<p>24</p>
<p>a. _____ + _____ = _____</p> <p><math>\frac{1}{2}</math> de 10 es _____.</p>	<p>b. _____ + _____ = _____</p> <p><math>\frac{1}{2}</math> de 40 es _____.</p>	<p>c. _____ + _____ = _____</p> <p><math>\frac{1}{2}</math> de 24 es _____.</p>