


Ángulos rectos

Estos parecen esquinas, pero en las matemáticas, se llaman ángulos.

Imagínate que estás sentado adentro de cada ángulo, y las “paredes” están alrededor de ti en la forma de una “esquina”. ¿Adentro de qué ángulo tendrías mucho espacio para sentarte? ¿Adentro de qué ángulo tendrías poco espacio para sentarte? Encuentra dos “esquinas rectas.”




En las matemáticas, se llaman ángulos rectos.



A veces, dibujamos una línea redonda (un arco) adentro del ángulo para señalarlo.



Se señalan ángulos rectos así.



Esquinas de libros son ejemplos de ángulos rectos.

1. Escribe cuántos ángulos cada figura tiene. Escribe cuántos ángulos **rectos** cada figura tiene.



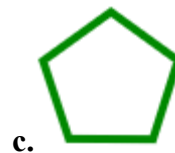
_____ ángulos

_____ ángulos rectos



_____ ángulos

_____ ángulos rectos



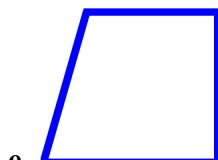
_____ ángulos

_____ ángulos rectos



_____ ángulos

_____ ángulos rectos



_____ ángulos

_____ ángulos rectos



_____ ángulos

_____ ángulos rectos