



Repaso: Parte de una entera



Un **tercio** de las doce flores son oscuras.


$\frac{1}{3}$ de 12 es 4.



La **mitad** de los doce peces son oscuros.

$\frac{1}{2}$ de 12 es 6.

1. ¿Te acuerdas? Halla las partes que se piden del grupo entero.




a. Haz 3 grupos.

$\frac{1}{3}$ de 9 manzanas es ____ .

$\frac{2}{3}$ de 9 manzanas es ____ .

$\frac{3}{3}$ de 9 manzanas es ____ .




b. Haz 5 grupos.

$\frac{1}{5}$ de ____ zanahorias es ____ .

$\frac{2}{5}$ de ____ zanahorias es ____ .

$\frac{3}{5}$ de ____ zanahorias es ____ .




c. Haz 4 grupos.

$\frac{1}{4}$ de ____ flores es ____ .

$\frac{2}{4}$ de ____ flores es ____ .

$\frac{3}{4}$ de ____ flores es ____ .



d.


$\frac{1}{6}$ de ____ flores es ____ .

$\frac{2}{6}$ de ____ flores es ____ .

$\frac{3}{6}$ de ____ flores es ____ .

$\frac{4}{6}$ de ____ flores es ____ .

$\frac{5}{6}$ de ____ flores es ____ .



e.


$\frac{1}{5}$ de 10 es ____ .

$\frac{2}{5}$ de 10 es ____ .

$\frac{3}{5}$ de 10 es ____ .

$\frac{4}{5}$ de 10 es ____ .

$\frac{5}{5}$ de 10 es ____ .



f.

$\frac{1}{5}$ de 20 es ____ .

$\frac{2}{5}$ de 20 es ____ .

$\frac{3}{5}$ de 20 es ____ .

$\frac{4}{5}$ de 20 es ____ .

$\frac{5}{5}$ de 20 es ____ .