

















Repaso de contar monedas

					
Un quarter 25 céntimos	Un dime 10 céntimos	Un nickel 5 céntimos	Un penny 1 céntimo	2 quarters 50 céntimos	3 quarters 75 céntimos

<p>Cuenta ascendentemente →</p>  <p style="text-align: center;">20 ¢ 25 ¢ 26 ¢ 27 ¢</p>	<p>Puedes contar cada serie de dos nickels como diez céntimos.</p>  <p style="text-align: center;">10 ¢ 20 ¢ 21 ¢</p>
 <p style="text-align: center;">25 ¢ 35 ¢ 45 ¢ 50 ¢ 51 ¢</p>	 <p style="text-align: center;">75 ¢ 80 ¢ 85 ¢</p>

1. ¿Cuánto dinero hay? Escribe la cantidad en céntimos.

<p>a. </p>	<p>b. </p>
<p>c. </p>	<p>d. </p>
<p>e. </p>	<p>f. </p>
<p>g. </p>	<p>h. </p>