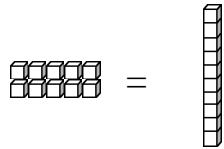


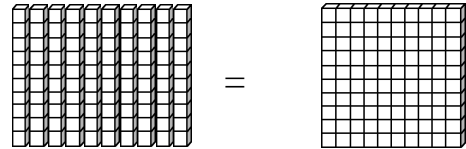
Números de tres dígitos

Diez unidades forman una decena:



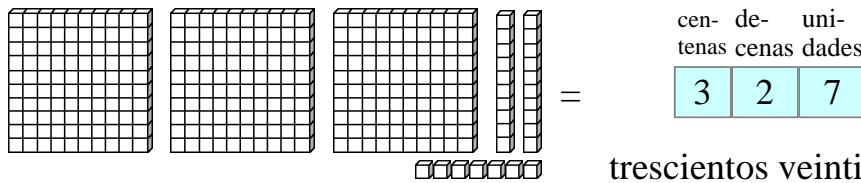
10 unidades = 10

Diez decenas pilares forman UNA CENTENA:



10 decenas = 100

Escribe centenas, decenas, y unidades en sus columnas:



trescientos veintisiete

1. Cuenta las unidades, decenas y centenas, y escribe las cantidades en los recuadros.

<p>a. Ciento uno</p> <p>centenas decenas unidades</p> <table border="1"> <tr> <td>1</td> <td>0</td> <td>1</td> </tr> </table>	1	0	1	<p>b. Ciento seis</p> <p>centenas decenas unidades</p> <table border="1"> <tr> <td> </td> <td> </td> <td> </td> </tr> </table>				<p>c. Ciento once</p> <p>centenas decenas unidades</p> <table border="1"> <tr> <td>1</td> <td>1</td> <td>1</td> </tr> </table>	1	1	1	<p>d. Ciento trece</p> <p>centenas decenas unidades</p> <table border="1"> <tr> <td> </td> <td> </td> <td> </td> </tr> </table>			
1	0	1													
1	1	1													
<p>e. Ciento veinte</p> <p>centenas decenas unidades</p> <table border="1"> <tr> <td> </td> <td> </td> <td> </td> </tr> </table>				<p>f. Ciento veinticinco</p> <p>centenas decenas unidades</p> <table border="1"> <tr> <td> </td> <td> </td> <td> </td> </tr> </table>				<p>g. Ciento cincuenta</p> <p>centenas decenas unidades</p> <table border="1"> <tr> <td> </td> <td> </td> <td> </td> </tr> </table>				<p>h. Ciento sesenta y dos</p> <p>centenas decenas unidades</p> <table border="1"> <tr> <td> </td> <td> </td> <td> </td> </tr> </table>			