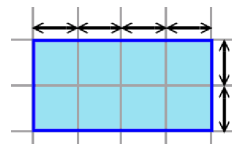


Perímetro

Perímetro significa “dar la vuelta caminando”, la distancia que cubres si das una vuelta completa a la figura caminando.

La palabra proviene de la palabra griega *perimetros*. En la palabra, *peri* significa ‘alrededor’ y *metros* significa ‘medir’.

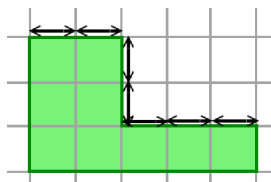
Para encontrar el perímetro de este rectángulo, cuenta las unidades mientras das una vuelta a la figura. Puedes pensar en dar la vuelta a la figura corriendo o saltando.



Las unidades están señaladas con flechitas en la ilustración. El lado superior mide cuatro unidades. El lado derecho mide dos unidades. ¡Asegúrate que entiendes eso!

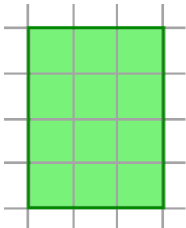

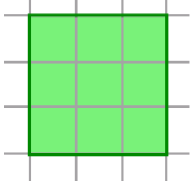
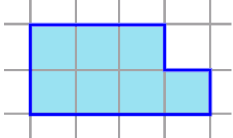
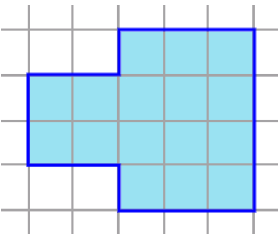
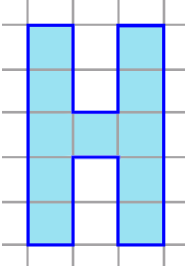
Entonces, ¿cuál es el perímetro? _____ unidades.

Aquí es más complicado contar esas unidades pequeñas. ¡Ten cuidado!



¿De cuántas unidades es el perímetro? _____ unidades.

1. Encuentra el perímetro de estas figuras. Tu respuesta será tal cantidad de unidades.
P significa perímetro.

<p>a.</p>  <p>P = _____ unidades</p>	<p>b.</p>  <p>P = _____</p>	<p>c.</p>  <p>P = _____</p>
<p>d.</p>  <p>P = _____</p>	<p>e.</p>  <p>P = _____</p>	<p>f.</p>  <p>P = _____</p>